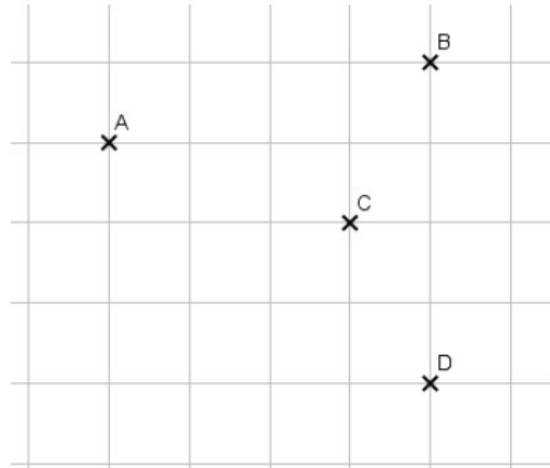


Séquence : Position de droites

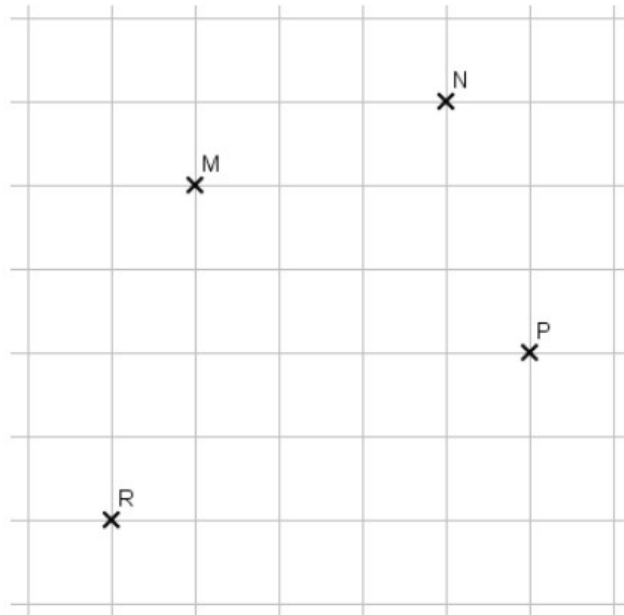
– Ex 18 p.190 : Tracer des droites perpendiculaires - **Quadrillage**

1. Reproduire la figure ci-contre.
2. Tracer la droite (d) perpendiculaire à la droite (AB) passant par le point C.
3. Tracer la droite (d') perpendiculaire à la droite (AC) passant par le point D.

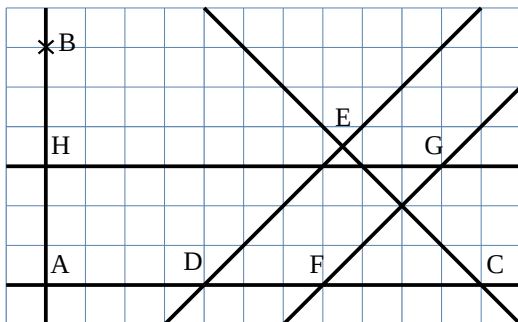


– Ex 30 p.191 : Tracer des droites parallèles - **Quadrillage**

1. Reproduire la figure ci-contre.
2. Tracer la droite (d) parallèle à la droite (MN) passant par le point P.
3. Tracer la droite (d') parallèle à la droite (MP) passant par le point R.



Exercice : 1. En utilisant le quadrillage, compléter avec les symboles // ou \perp .



- | | | |
|--------------------|--------------------|--------------------|
| a. (AB) (GH) | b. (ED) (FG) | c. (ED) (CE) |
| e. (GH) (DC) | f. (GF) (EC) | g. (AB) (CD) |

2. Citer deux couples de droites sécantes qui ne sont pas perpendiculaires :