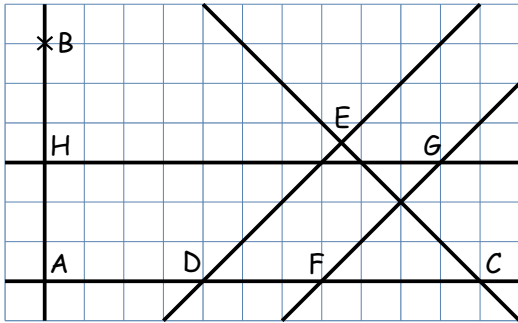


Exercices : Reconnaître des droites parallèles et perpendiculaires

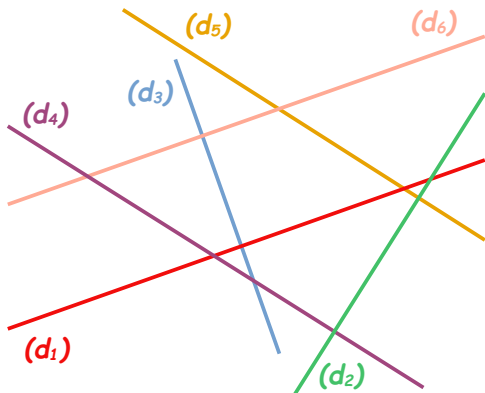
**Exercice 1 - exercice témoin : 1.** En utilisant le quadrillage, compléter avec les symboles // ou  $\perp$ .



- a. (AB) ..... (GH)      b. (ED) ..... (FG)      c. (ED) ..... (CE)  
 e. (GH) ..... (DC)      f. (GF) ..... (EC)      g. (AB) ..... (CD)

2. Citer deux couples de droites sécantes qui ne sont pas perpendiculaires : .....

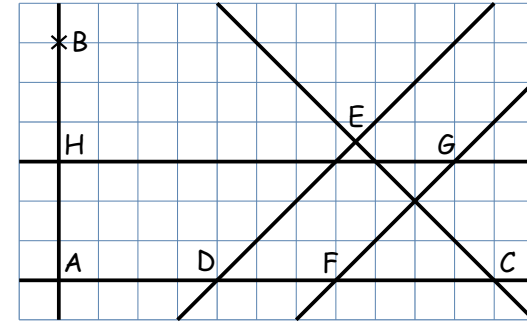
**Exercice 2 :**



- En utilisant les instruments de géométrie, citer deux couples de droites :
- a. perpendiculaires : .....  
 b. sécantes mais non perpendiculaires : .....  
 c. parallèles : .....

Exercices : Reconnaître des droites parallèles et perpendiculaires

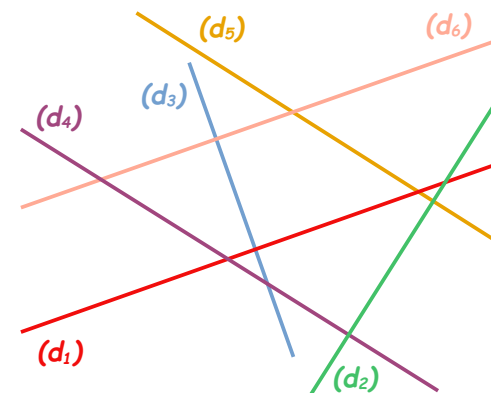
**Exercice 1 - exercice témoin : 1.** En utilisant le quadrillage, compléter avec les symboles // ou  $\perp$ .



- a. (AB) ..... (GH)      b. (ED) ..... (FG)      c. (ED) ..... (CE)  
 e. (GH) ..... (DC)      f. (GF) ..... (EC)      g. (AB) ..... (CD)

2. Citer deux couples de droites sécantes qui ne sont pas perpendiculaires : .....

**Exercice 2 :**



- En utilisant les instruments de géométrie, citer deux couples de droites :
- a. perpendiculaires : .....  
 b. sécantes mais non perpendiculaires : .....  
 c. parallèles : .....