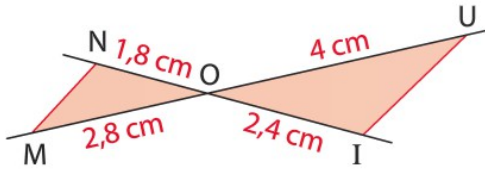


Exercice supplémentaire

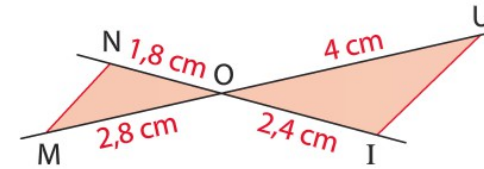
Les droites (NI) et (MU) se coupent en O.



Boris : « Les droites (MN) et (UI) ne sont pas parallèles ». Montrer qu'il a raison.

Exercice supplémentaire

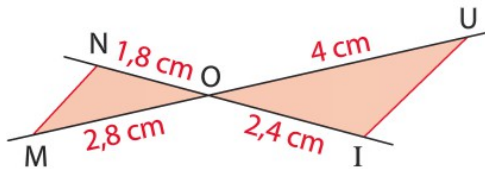
Les droites (NI) et (MU) se coupent en O.



Boris : « Les droites (MN) et (UI) ne sont pas parallèles ». Montrer qu'il a raison.

Exercice supplémentaire

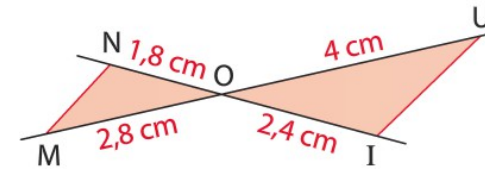
Les droites (NI) et (MU) se coupent en O.



Boris : « Les droites (MN) et (UI) ne sont pas parallèles ». Montrer qu'il a raison.

Exercice supplémentaire

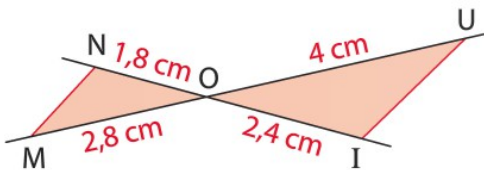
Les droites (NI) et (MU) se coupent en O.



Boris : « Les droites (MN) et (UI) ne sont pas parallèles ». Montrer qu'il a raison.

Exercice supplémentaire

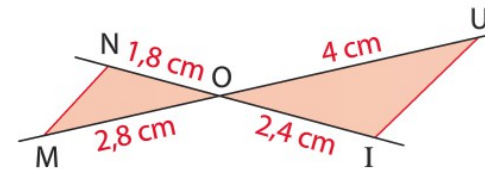
Les droites (NI) et (MU) se coupent en O.



Boris : « Les droites (MN) et (UI) ne sont pas parallèles ». Montrer qu'il a raison.

Exercice supplémentaire

Les droites (NI) et (MU) se coupent en O.



Boris : « Les droites (MN) et (UI) ne sont pas parallèles ». Montrer qu'il a raison.