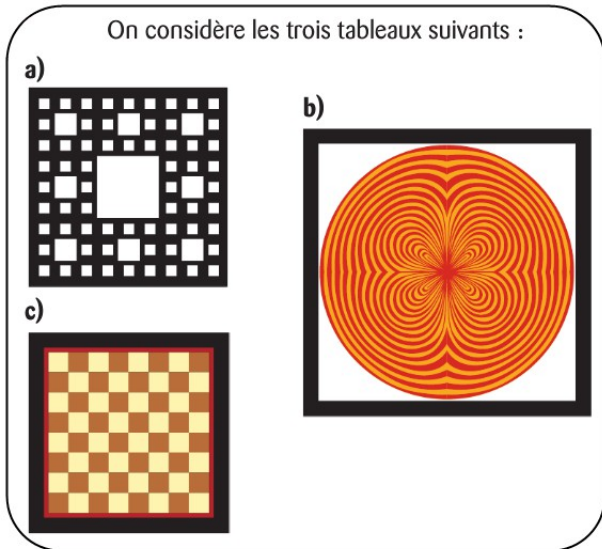


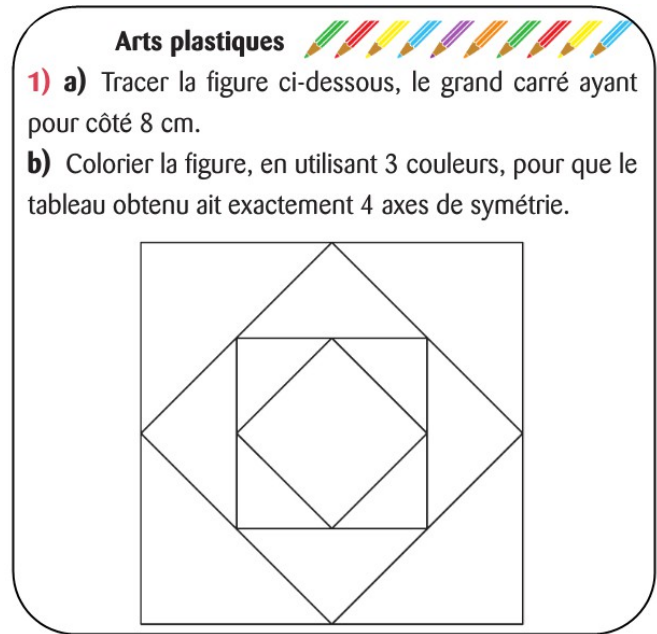
Exercices supplémentaires : Axes de symétrie

Exercice 1 :



- 1) Quel tableau admet seulement deux axes de symétrie : un horizontal et un vertical ?
- 2) Lequel admet quatre axes de symétrie ?
- 3) Quels sont les axes de symétrie du dernier tableau ?

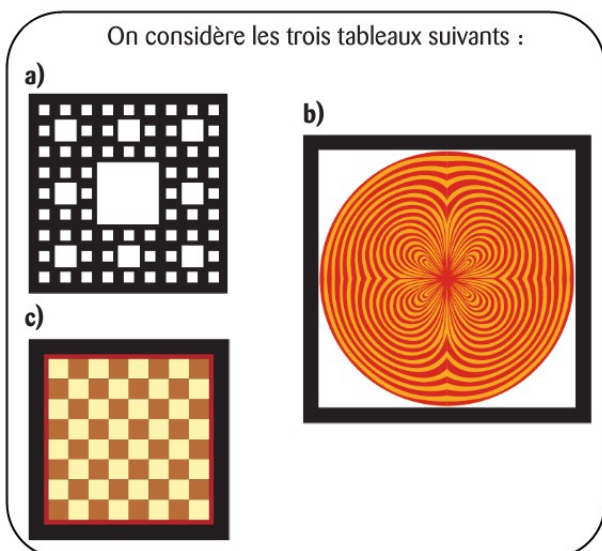
Exercice 2 :



- 2) a) Tracer à nouveau cette figure.
- b) La colorier, en utilisant 3 couleurs, pour que le tableau obtenu ait seulement 2 axes de symétrie.

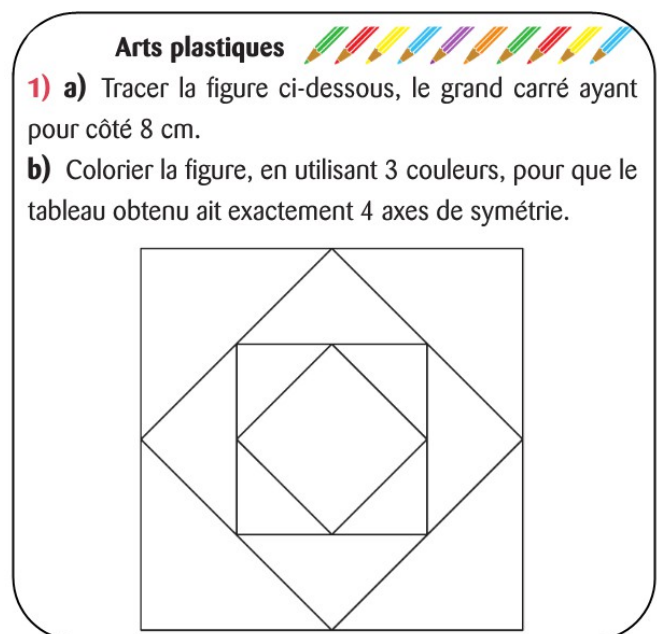
Exercices supplémentaires : Axes de symétrie

Exercice 1 :



- 1) Quel tableau admet seulement deux axes de symétrie : un horizontal et un vertical ?
- 2) Lequel admet quatre axes de symétrie ?
- 3) Quels sont les axes de symétrie du dernier tableau ?

Exercice 2 :



- 2) a) Tracer à nouveau cette figure.
- b) La colorier, en utilisant 3 couleurs, pour que le tableau obtenu ait seulement 2 axes de symétrie.