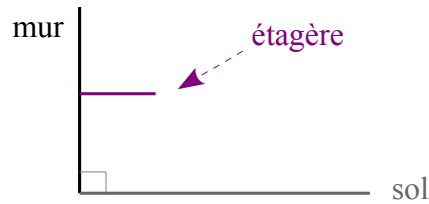


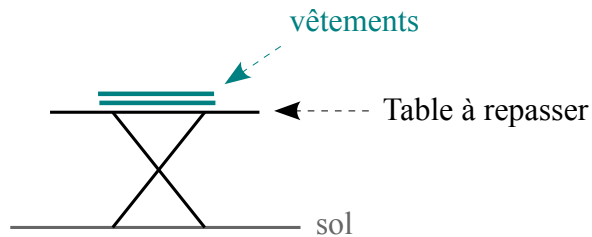
Fiche d'exercices : Propriétés des droites perpendiculaires ou parallèles.

Exercice 1 : L'étagère



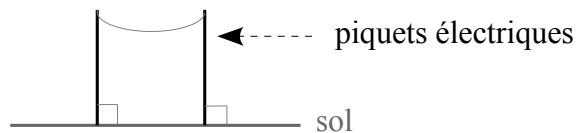
On sait que le mur est perpendiculaire au sol et que l'étagère est parallèle au sol. Que peut-on dire de la position de l'étagère par rapport au mur ? Justifier.

Exercice 2 : La table à repasser



On sait que les vêtements sont parallèles à la table à repasser et que la table à repasser est parallèle au sol. Que peut-on dire de la position des vêtements par rapport au sol ? Justifier.

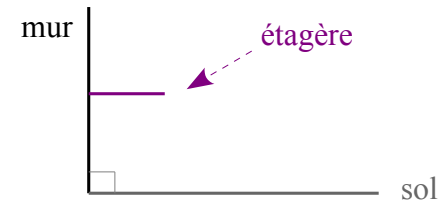
Exercice 3 : Les piquets électriques



On sait que les deux piquets électriques sont perpendiculaires au sol. Que peut-on dire de la position des piquets électriques entre eux ? Justifier.

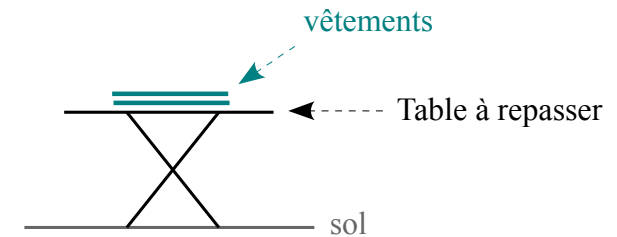
Fiche d'exercices : Propriétés des droites perpendiculaires ou parallèles.

Exercice 1 : L'étagère



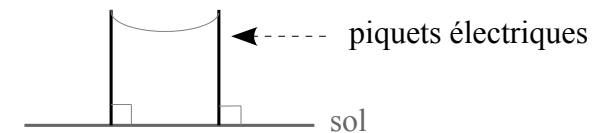
On sait que le mur est perpendiculaire au sol et que l'étagère est parallèle au sol. Que peut-on dire de la position de l'étagère par rapport au mur ? Justifier.

Exercice 2 : La table à repasser



On sait que les vêtements sont parallèles à la table à repasser et que la table à repasser est parallèle au sol. Que peut-on dire de la position des vêtements par rapport au sol ? Justifier.

Exercice 3 : Les piquets électriques



On sait que les deux piquets électriques sont perpendiculaires au sol. Que peut-on dire de la position des piquets électriques entre eux ? Justifier.