


### Exercice : Trésor

Le trésor T est à moins de 2 m de l'arbre A. Il est à égale distance du rocher R et du fort F. L'angle  $\widehat{RAT}$  mesure  $28^\circ$ .  
Tracer en rouge les endroits où il faut creuser.

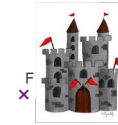
AR = 3,4 cm  
AF = 3,7 cm  
et RF = 2,2 cm



### Exercice : Trésor

Le trésor T est à moins de 2 m de l'arbre A. Il est à égale distance du rocher R et du fort F. L'angle  $\widehat{RAT}$  mesure  $28^\circ$ .  
Tracer en rouge les endroits où il faut creuser.

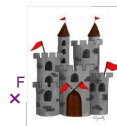
AR = 3,4 cm  
AF = 3,7 cm  
et RF = 2,2 cm



### Exercice : Trésor

Le trésor T est à moins de 2 m de l'arbre A. Il est à égale distance du rocher R et du fort F. L'angle  $\widehat{RAT}$  mesure  $28^\circ$ .  
Tracer en rouge les endroits où il faut creuser.

AR = 3,4 cm  
AF = 3,7 cm  
et RF = 2,2 cm



### Exercice : Trésor

Le trésor T est à moins de 2 m de l'arbre A. Il est à égale distance du rocher R et du fort F. L'angle  $\widehat{RAT}$  mesure  $28^\circ$ .  
Tracer en rouge les endroits où il faut creuser.

AR = 3,4 cm  
AF = 3,7 cm  
et RF = 2,2 cm

