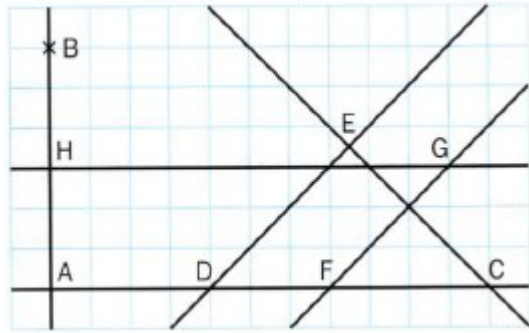


Exercices : Reconnaître des droites parallèles et perpendiculaires

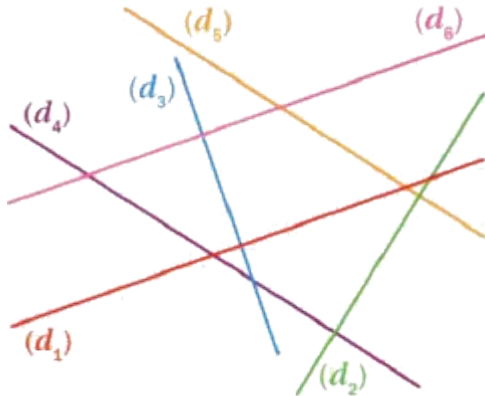
Exercice 1 : 1. En utilisant le quadrillage, compléter avec les symboles // ou \perp .



- a. (AB) (GH) b. (ED) (FG) c. (ED) (CE)
 e. (GH) (DC) f. (GF) (EC) g. (AB) (CD)

2. Citer deux couples de droites sécantes qui ne sont pas perpendiculaires :

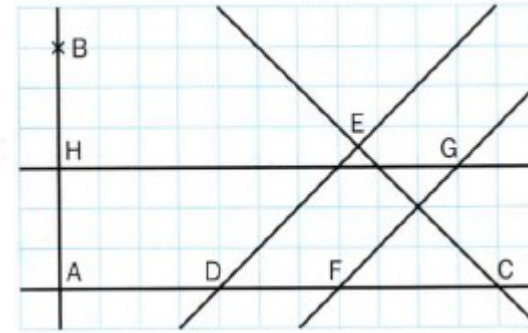
Exercice 2 :



- En utilisant les instruments de géométrie, citer deux couples de droites :
- a. perpendiculaires :
- b. sécantes mais non perpendiculaires :
- c. parallèles :

Exercices : Reconnaître des droites parallèles et perpendiculaires

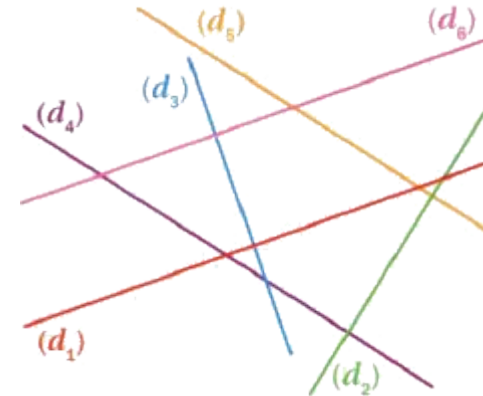
Exercice 1 : 1. En utilisant le quadrillage, compléter avec les symboles // ou \perp .



- a. (AB) (GH) b. (ED) (FG) c. (ED) (CE)
 e. (GH) (DC) f. (GF) (EC) g. (AB) (CD)

2. Citer deux couples de droites sécantes qui ne sont pas perpendiculaires :

Exercice 2 :



- En utilisant les instruments de géométrie, citer deux couples de droites :
- a. perpendiculaires :
- b. sécantes mais non perpendiculaires :
- c. parallèles :