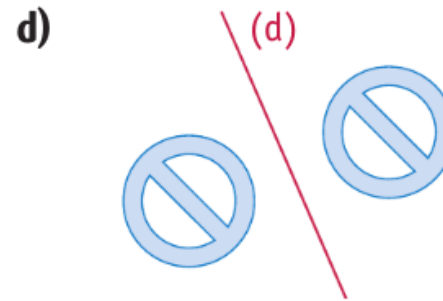
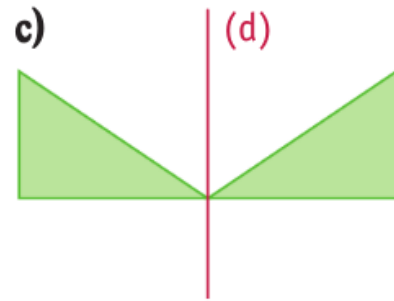
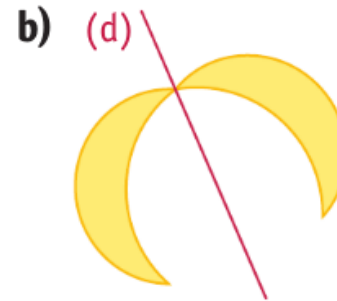
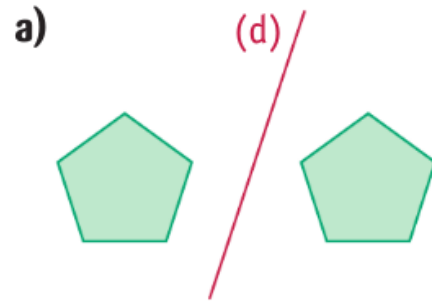


**Exercice 1** (à l'oral)

Indiquer dans chaque cas si les figures sont symétriques par rapport à la droite (d).



## Exercice 2 (à l'oral)

Indiquer le symétrique de chacun des points A, B, C, D, E et F par rapport à la droite  $(\Delta)$ .

