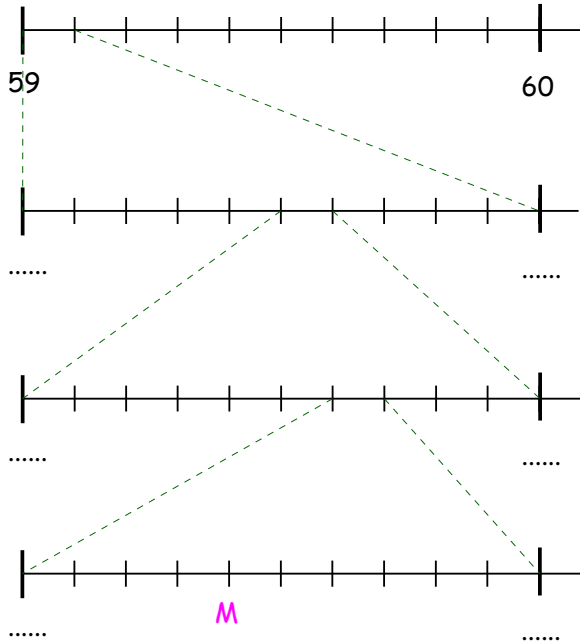


**Exercice 1 :**

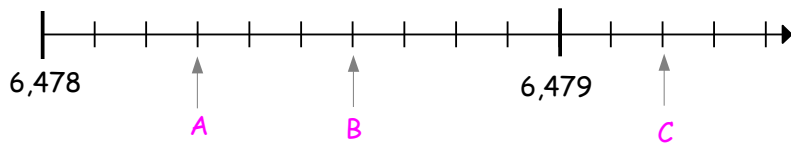
a. Compléter les informations manquantes.



b. Quelle est l'abscisse du point M ?

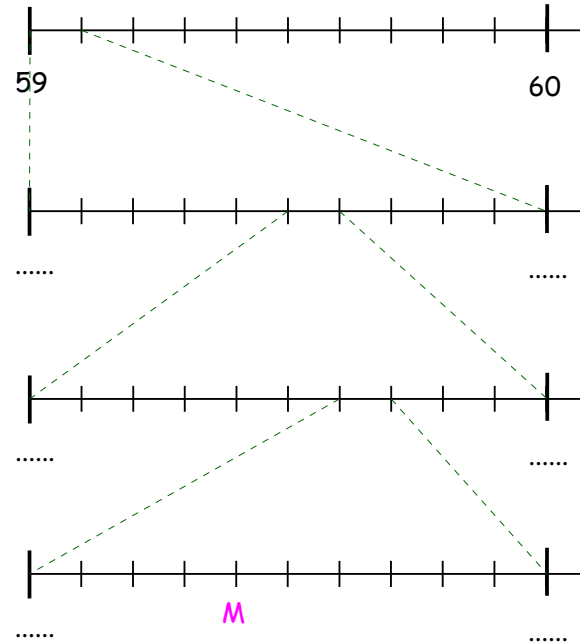
**Exercice 2 :**

Donner les abscisses des points A, B et C.



**Exercice 1 :**

a. Compléter les informations manquantes.



b. Quelle est l'abscisse du point M ?

**Exercice 2 :**

Donner les abscisses des points A, B et C.

