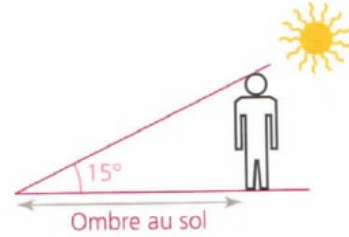


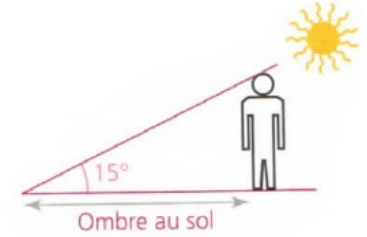
Exercice : Trigonométrie - Ombre au sol

Une personne mesure 1,65 m.
Quelle est la longueur de l'ombre au sol de
cette personne quand les rayons du soleil font
un angle de 15° avec le sol ?



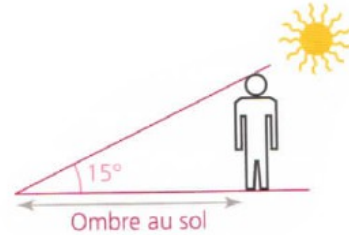
Exercice : Trigonométrie - Ombre au sol

Une personne mesure 1,65 m.
Quelle est la longueur de l'ombre au sol de
cette personne quand les rayons du soleil font
un angle de 15° avec le sol ?



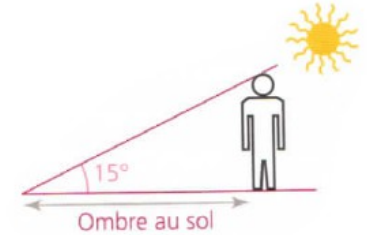
Exercice : Trigonométrie - Ombre au sol

Une personne mesure 1,65 m.
Quelle est la longueur de l'ombre au sol de
cette personne quand les rayons du soleil font
un angle de 15° avec le sol ?



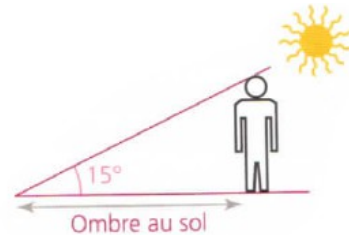
Exercice : Trigonométrie - Ombre au sol

Une personne mesure 1,65 m.
Quelle est la longueur de l'ombre au sol de
cette personne quand les rayons du soleil font
un angle de 15° avec le sol ?



Exercice : Trigonométrie - Ombre au sol

Une personne mesure 1,65 m.
Quelle est la longueur de l'ombre au sol de
cette personne quand les rayons du soleil font
un angle de 15° avec le sol ?



Exercice : Trigonométrie - Ombre au sol

Une personne mesure 1,65 m.
Quelle est la longueur de l'ombre au sol de
cette personne quand les rayons du soleil font
un angle de 15° avec le sol ?

